


□ Diurajew

■ Alvarez Ramirez

Junioren WM Gaziantep

[Husemann,D]

2008



Wie sollte Weiß am Zuge fortfahren?

1. **T8c6 Txd7** oder ein beliebiger

anderer Zug. 2. **T3c5#**

1-0

□ Mordue

■ Robinson

Britische Liga

[Husemann,D]

2005

(Diagramm)


Was sollte Weiß am Zuge nun machen?

1. **Td8+ Kb7**

[ 1...Tb8 2.Txb8# ]

2. **Sc5#**

0-1



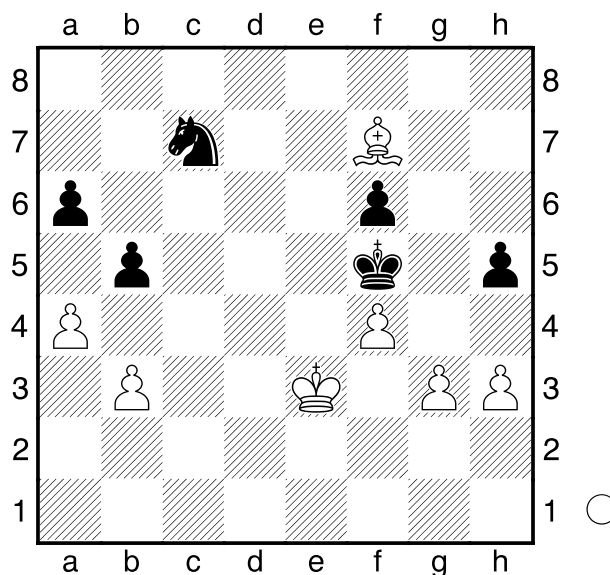
□ Gioseffi

■ Ferri

Saint Vincent

[Husemann,D]

2008



Wie gewinnt Weiß am Zuge nun?


1. **Kf3 bxa4** andere Züge helfen auch

nicht. 2. **g4+ hxg4+** 3. **hxg4#**

1-0

**Kastner**  
 **Spindelboeck**  
 Österreich  
 [Husemann,D]

2007




Wie gewinnt Weiß am Zuge nun?  
 1.Tg8+ Kh6 2.Sf5+ Kh5 3.g4#  
**1-0**

**Grochulski**  
 **Nguyen**  
 Warschau  
 [Husemann,D]

2010

(Diagramm)

Wie soll Weiß am Zuge auf den letzten Zug von Schwarz (Lxa2?) reagieren?  
**1.Sb6 Tc7**  
 [ 1...Kf7 2.Sxc8 Sxc8 3.Td7+ Kg6  
 4.Lc5+- ]  
**2.Td8+ Kf7 3.Sd6+ Kg6 4.Lb8**  
**1-0**



**Ehrlich,Tim** **C01**  
 **Räcke,Norbert** **1878**  
**1840**  
 VL Br. II-SC Wiedenbrück (4. B9) 09.2007  
 [Husemann,D]

**1.e4 e6 2.d4 d5 3.exd5 exd5 4.Sf3**  
**Lg4 5.h3 Lh5 6.De2+ De7 7.Le3**  
**Sc6 8.Sbd2 Sf6 9.0-0-0 Sb4 10.a3**  
**Sc6 11.Db5 0-0-0 12.Sb3 Lxf3**

(Diagramm)

Weiß am Zuge.  
**13.Sc5 Dxc5 14.dxc5 Lxd1**  
**15.Kxd1**  
**1-0**

