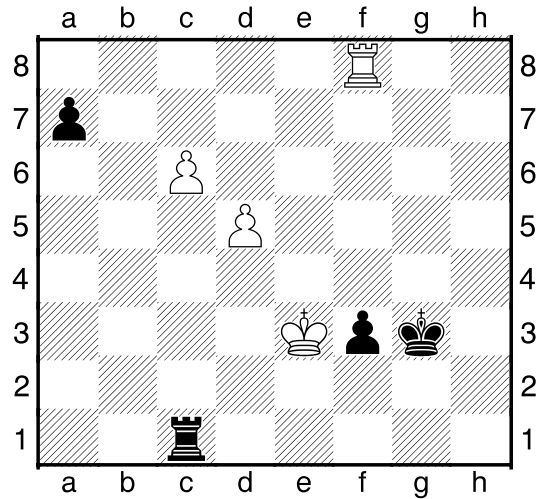


# Endspiel Aufgaben

# Blatt 1


Analysiere die folgenden Endspielstellungen!

Aufgabe 1



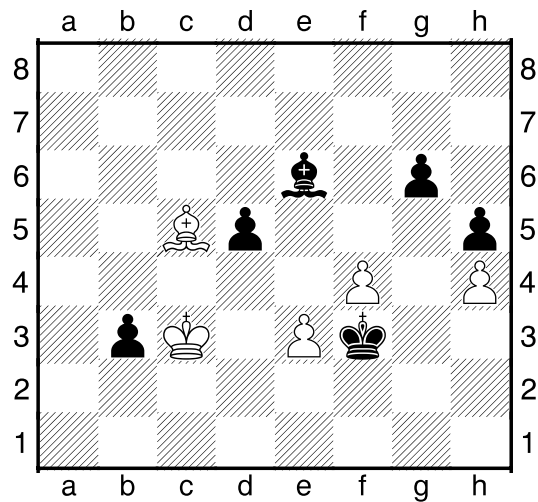
Schwarz am Zuge.

Aufgabe 3



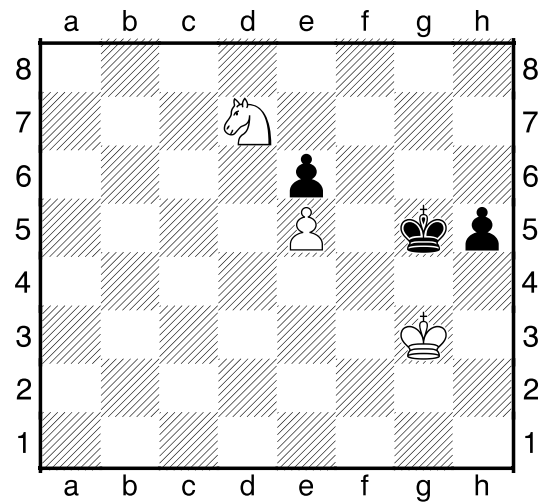
Schwarz am Zuge.

Aufgabe 2



Schwarz am Zuge.

Aufgabe 4



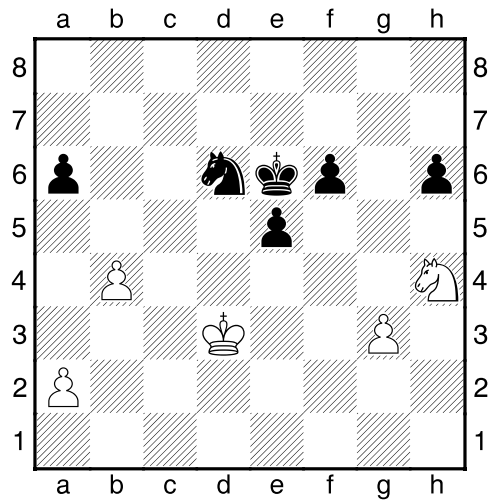
Schwarz am Zuge.

# Endspiel Aufgaben

# Blatt 2


Analysiere die folgenden Endspielstellungen!

## Aufgabe 1



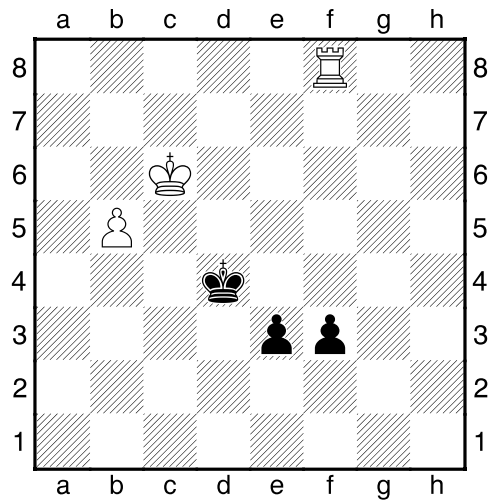
Schwarz am Zuge.

## Aufgabe 3




Schwarz am Zuge.

## Aufgabe 2



Weiß am Zuge.

## Aufgabe 4




Weiß am Zuge.

# Endspiel Aufgaben

# Blatt 3


Analysiere die folgenden Endspielstellungen!

Aufgabe 1




Schwarz am Zuge.

Aufgabe 3




Schwarz am Zuge.

Aufgabe 2



Schwarz am Zuge.

Aufgabe 4




Schwarz am Zuge.

# Endspiel Aufgaben

# Blatt 4


Analysiere die folgenden Endspielstellungen!

Aufgabe 1




Weiß am Zuge. Was ist von Tf8+ zu halten?

Aufgabe 2




Weiß am Zuge.

Aufgabe 3



Weiß am Zuge.

Aufgabe 4




Schwarz am Zuge.

# Endspiel Aufgaben

# Blatt 5


Analysiere die folgenden Endspielstellungen!

Aufgabe 1




Weiß am Zuge.  
Was passiert nach Lxd4?

Aufgabe 3




Schwarz am Zuge.

Aufgabe 2



Weiß am Zuge.

Aufgabe 4




Weiß am Zuge.

# Endspiel Aufgaben

# Blatt 6


Analysiere die folgenden Endspielstellungen!

Aufgabe 1




Weiß am Zuge.

Aufgabe 3




Weiß am Zuge.

Aufgabe 2



Schwarz am Zuge.

Aufgabe 4




Weiß am Zuge.

# Endspiel Aufgaben

# Blatt 7


Analysiere die folgenden Endspielstellungen!

Aufgabe 1




Weiß am Zuge.

Aufgabe 2




Weiß am Zuge.

Aufgabe 3



Weiß am Zuge.

Aufgabe 4




Weiß am Zuge.

# Endspiel Aufgaben

# Blatt 8


Analysiere die folgenden Endspielstellungen!

Aufgabe 1




Weiß am Zuge.

Aufgabe 3




Weiß am Zuge.

Aufgabe 2



Schwarz am Zuge.

Aufgabe 4



Schwarz am Zuge.




# Endspiel Aufgaben

# Blatt 9


Analysiere die folgenden Endspielstellungen!

Aufgabe 1




Schwarz am Zuge. Hier wird immer wieder derselbe Fehler gemacht. Wohin gehört der Läufer?

Aufgabe 3




Weiß am Zuge.

Aufgabe 2



Schwarz am Zuge.

Aufgabe 4




Weiß am Zuge.

# Endspiel Aufgaben

# Blatt 10


Analysiere die folgenden Endspielstellungen!

Aufgabe 1




Weiß am Zuge.

Aufgabe 2




Schwarz am Zuge. Soll Schwarz hier mit 1. ... Kc7 2.Ke5 Kd7 auf Nummer sicher gehen oder kann er 1. ... Kc5 riskieren?

Aufgabe 3



Schwarz am Zuge gab hier die Partie auf. War da wirklich nichts mehr drin?

Aufgabe 4




Weiß am Zuge.

# Endspiel Aufgaben

# Blatt 11


Analysiere die folgenden Endspielstellungen!

Aufgabe 1




Schwarz am Zuge.

Aufgabe 3




Weiß am Zuge.

Aufgabe 2



Weiß am Zuge.

Aufgabe 4




Weiß am Zuge.

# Endspiel Aufgaben

# Blatt 12


Analysiere die folgenden Endspielstellungen!

Aufgabe 1




Weiß am Zuge.

Aufgabe 3




Weiß am Zuge.

Aufgabe 2



Weiß am Zuge.

Aufgabe 4




Schwarz am Zuge.

# Endspiel Aufgaben

# Blatt 13


Analysiere die folgenden Endspielstellungen!

Aufgabe 1




Weiß am Zuge.

Aufgabe 3




Schwarz am Zuge.

Aufgabe 2



Schwarz am Zuge.

Aufgabe 4




Weiß am Zuge.

# Endspiel Aufgaben

# Blatt 14


Analysiere die folgenden Endspielstellungen!

Aufgabe 1




Weiß am Zuge.

Aufgabe 2




Schwarz am Zuge.

Aufgabe 3



Schwarz am Zuge.

Aufgabe 4



Schwarz am Zuge.

## **Endspiel Aufgaben**

## **Blatt 15**

Analysiere die folgenden Endspielstellungen!

Aufgabe 1

Weiß am Zuge.

Aufgabe 2

Weiß am Zuge.

Aufgabe 3

Weiß am Zuge.

Aufgabe 4

## **Endspiel Aufgaben**

## **Blatt 16**

Analysiere die folgenden Endspielstellungen!

Aufgabe 1

Weiß am Zuge.

Aufgabe 2

Weiß am Zuge.

Aufgabe 3

Weiß am Zuge.

Aufgabe 4



## **Endspiel Aufgaben**

## **Blatt 17**

Analysiere die folgenden Endspielstellungen!

Aufgabe 1

Weiß am Zuge.

Aufgabe 2

Weiß am Zuge.

Aufgabe 3

Weiß am Zuge.

Aufgabe 4

## **Endspiel Aufgaben**

## **Blatt 18**

Analysiere die folgenden Endspielstellungen!

Aufgabe 1

Weiß am Zuge.

Aufgabe 2

Weiß am Zuge.

Aufgabe 3

Weiß am Zuge.

Aufgabe 4

## **Endspiel Aufgaben**

## **Blatt 19**

Analysiere die folgenden Endspielstellungen!

Aufgabe 1

Weiß am Zuge.

Aufgabe 2

Weiß am Zuge.

Aufgabe 3

Weiß am Zuge.

Aufgabe 4

## **Endspiel Aufgaben**

## **Blatt 20**

Analysiere die folgenden Endspielstellungen!

Aufgabe 1

Weiß am Zuge.

Aufgabe 2

Weiß am Zuge.

Aufgabe 3

Weiß am Zuge.

Aufgabe 4

## **Endspiel Aufgaben**

## **Blatt 21**

Analysiere die folgenden Endspielstellungen!

Aufgabe 1

Weiß am Zuge.

Aufgabe 2

Weiß am Zuge.

Aufgabe 3

Weiß am Zuge.

Aufgabe 4