


Endspiel Aufgaben

Blatt 10


Analysiere die folgenden Endspielstellungen!

Aufgabe 1




Weiß am Zuge.

Aufgabe 2




Schwarz am Zuge. Soll Schwarz hier mit 1. ... Kc7 2.Ke5 Kd7 auf Nummer sicher gehen oder kann er 1. ... Kc5 riskieren?

Aufgabe 3



Schwarz am Zuge gab hier die Partie auf. War da wirklich nichts mehr drin?

Aufgabe 4



Weiß am Zuge.